
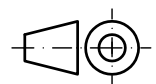
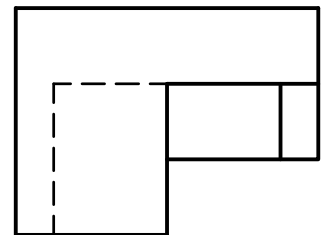
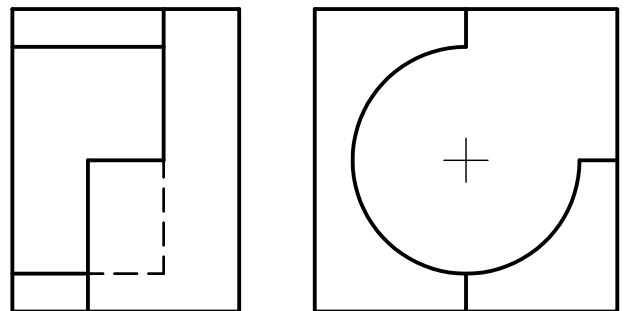


EJERCICIO 3º

AXONOMETRÍA

Dados alzado, planta y perfil de una pieza a escala 1:1, según el método de representación del primer diedro de proyección, se pide:

Dibujar su perspectiva caballera a escala 2:1 y coeficiente de reducción 1/2, según los ejes dados.



Puntuación:

Aplicación escala	1,0 puntos
Aplicación coeficiente	1,0 puntos
Volumen anterior	3,0 puntos
Volumen central	3,0 puntos
Volumen posterior	2,0 puntos
Puntuación máxima	10,0 puntos