



**UNIVERSIDADES DE ANDALUCÍA**  
**PRUEBA DE ACCESO A LA UNIVERSIDAD**  
**MAYORES DE 25 AÑOS**  
**Convocatoria 2008**

**PRUEBA  
ESPECÍFICA  
GEOGRAFÍA  
DE ESPAÑA**

- Instrucciones:**
- a) Duración: 1 hora y 30 minutos
  - b) La presente prueba consta de tres partes (I, II, III). De cada una de las partes deberá desarrollar uno de los ejercicios propuestos (1 ó 2)
  - c) La puntuación de cada parte viene especificada en el propio examen
  - d) En todos los casos se considerarán elementos de ponderación de la nota final, la calidad de la redacción y la corrección ortográfica y gramatical.

**PARTE I. Exprese de modo claro y conciso el significado geográfico de los siguientes términos (elija un grupo):**

- Grupo 1.
- Istmo
  - Paralelo geográfico
  - Delta fluvial
  - Morfología urbana
  - Ganadería extensiva
  - Inflación

- Grupo 2.
- Isobaras
  - Bosque caducifolio
  - Caudal de un río
  - Censo de población
  - Rotación de cultivos
  - Fuentes de energía

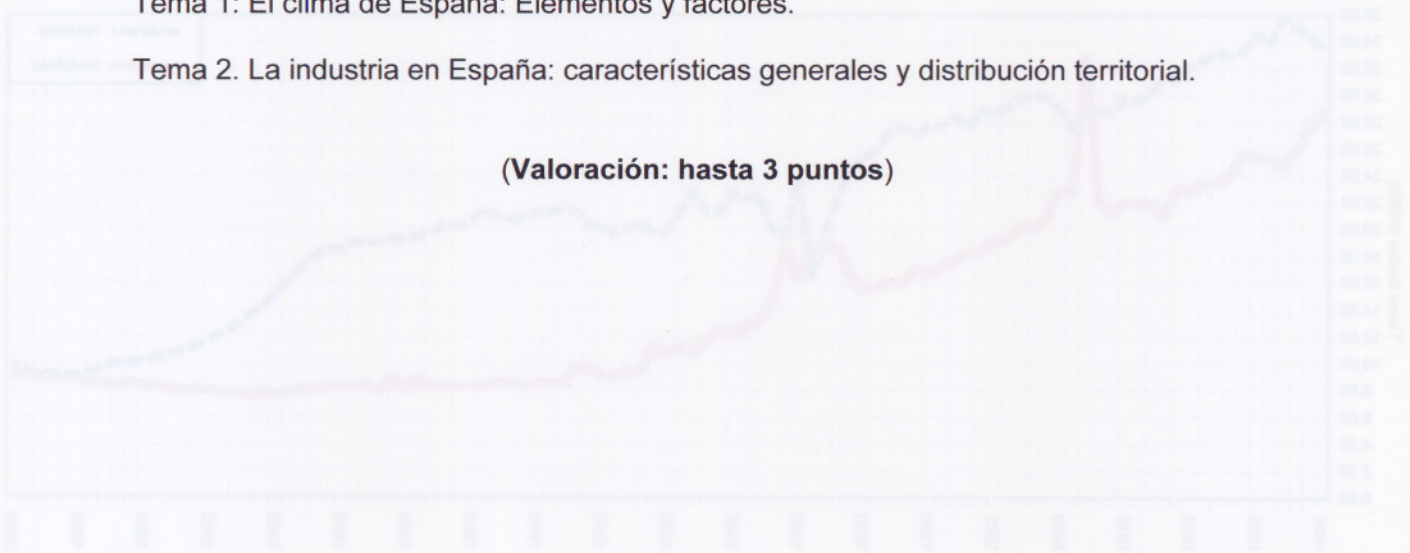
**(Valoración: hasta 3 puntos)**

**PARTE II. Desarrolle uno de los dos temas propuestos:**

Tema 1: El clima de España: Elementos y factores.

Tema 2: La industria en España: características generales y distribución territorial.

**(Valoración: hasta 3 puntos)**

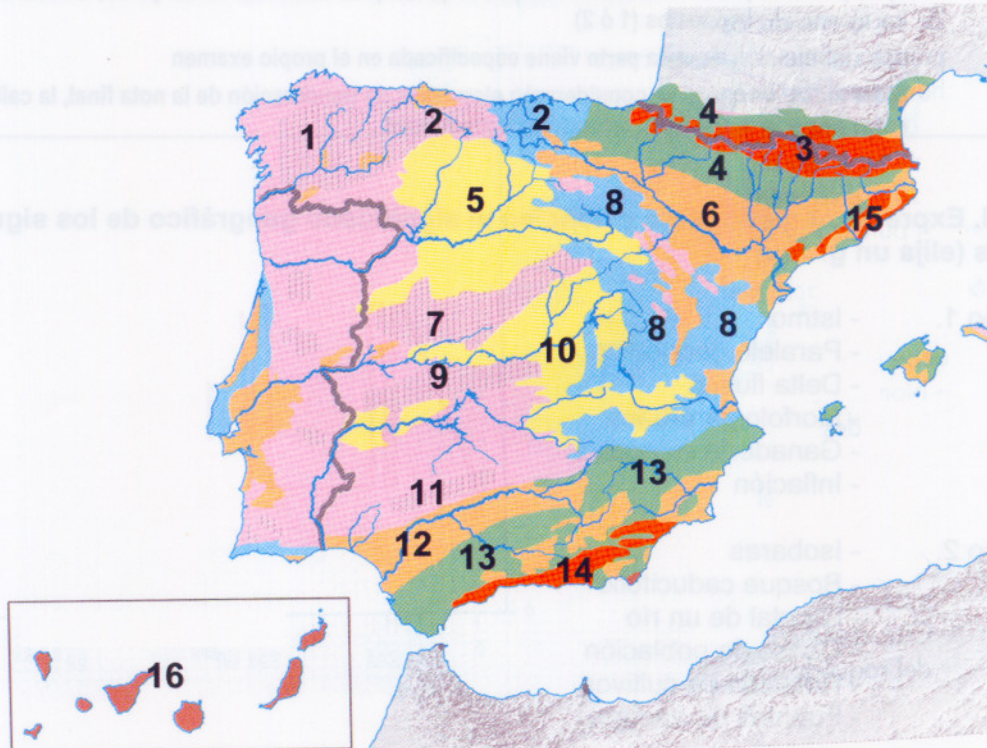




**PARTE III. Desarrolle uno de los dos ejercicios siguientes:**

Ejercicio 1: El mapa representa las **principales unidades morfoestructurales de la Península Ibérica y Baleares**. Analícelo y responda a las siguientes preguntas:

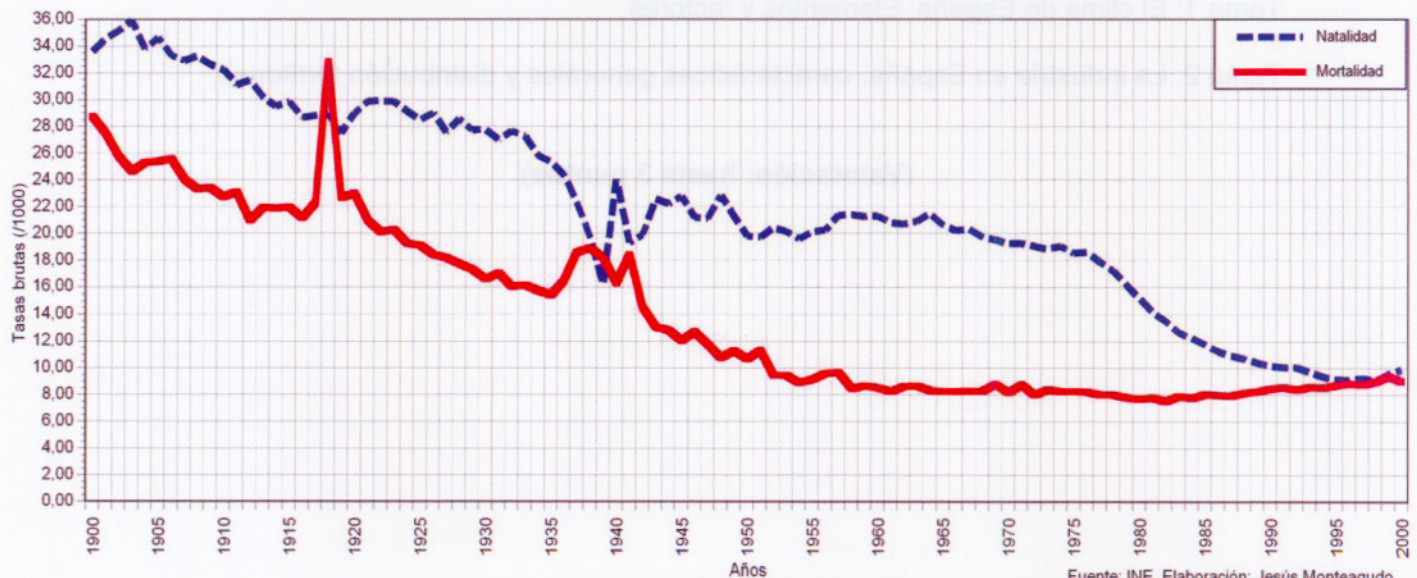
- Relacione, con nombre y número, las unidades de relieve *exteriores* a la Meseta. (valor de esta cuestión: hasta 1 punto).
- Relacione, con nombre y número, las unidades de relieve *interiores* y los *rebordes* montañosos de la Meseta. (valor de esta cuestión: hasta 1 punto)
- En la Península Ibérica y Baleares existen tres principales tipos de roquedos. Nómbralos y asocie los números que identifican a cada unidad de relieve con cada uno de esos tres tipos de roquedo. ¿Qué tipo de rocas predominan en el número 16?. (valor: hasta 2 puntos)



Ejercicio 2: Observe la gráfica sobre **las tasas brutas de natalidad y mortalidad de la población española entre 1900 y 2000**, y responda a las siguientes cuestiones:

- ¿En qué se parecen y en qué se diferencian, básicamente, los comportamientos de las dos curvas a lo largo del siglo?. (valor de esta cuestión: hasta 1 punto).
- ¿Qué efectos habrá producido el comportamiento de las dos curvas sobre el crecimiento natural de la población a lo largo del siglo?. (valor de esta cuestión: hasta 1,5 puntos)
- ¿Qué problemas cree que plantea al Estado español la situación demográfica que se observa en 2000?. (valor de esta cuestión: hasta 1,5 puntos)

**ESPAÑA. EVOLUCIÓN DE LAS TASAS BRUTAS DE NATALIDAD Y MORTALIDAD. 1900-2000**



Fuente: INE. Elaboración: Jesús Monteagudo

(Valoración: hasta 4 puntos)